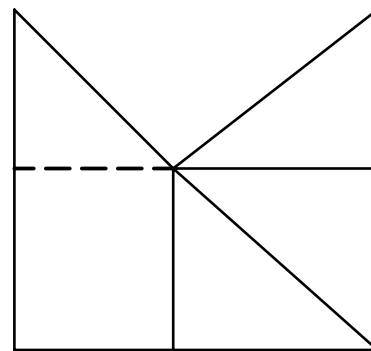
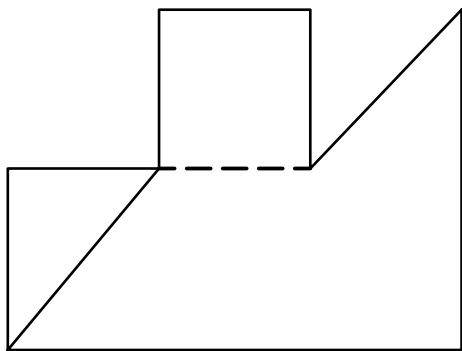
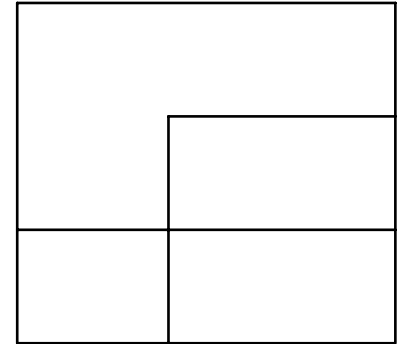
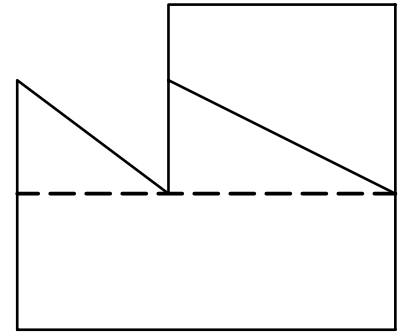


Dibujar las vistas que faltan en cada caso y acotar las piezas en sus vistas.

Para facilitar el estudio, se dan los vértices en dibujo isométrico (escala 1:2) del paralelepípedo donde está inscrita la pieza



2009-2010



Obtención de vista que falta 1

CURSO

BT II 3.5

Dibujar las vistas que faltan en cada caso y acotar las piezas en sus vistas.

Para facilitar el estudio, se dan los vértices en dibujo isométrico (escala 1:2) del paralelepípedo donde está inscrita la pieza

