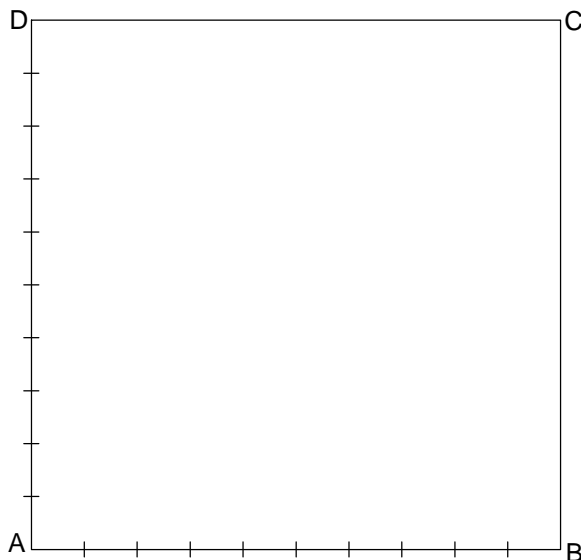

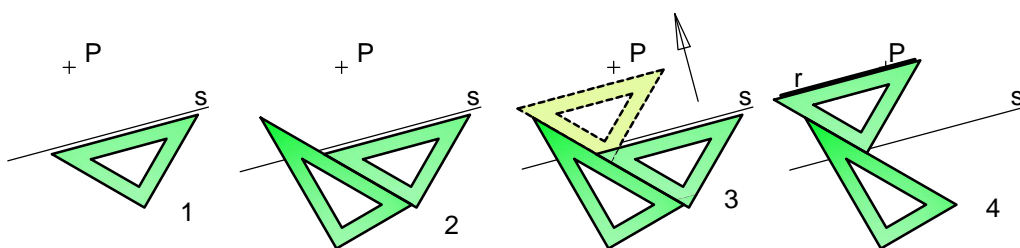


Dibujar: 1 - por las marcas de los lados AD y BC, líneas paralelas y de grosor intermedio, a la diagonal AC y 2 - por las marcas de los lados AB y CD, líneas paralelas y de grosor fuerte, a la diagonal BD.

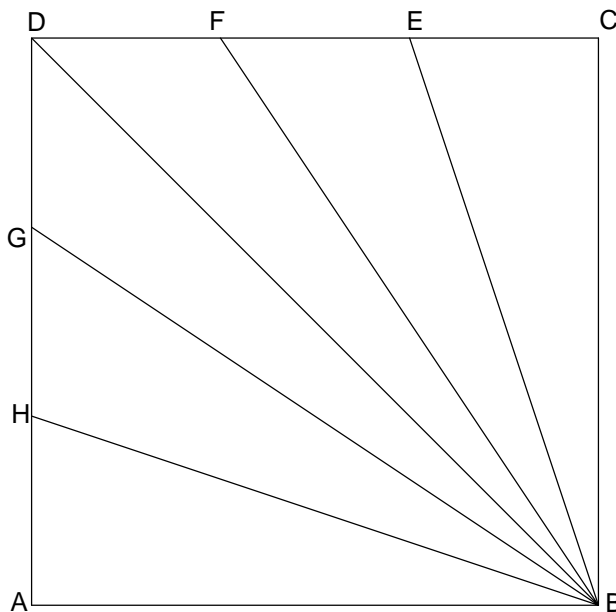


Dibujar en el cuadrado ABCD y aprovechando las marcas, la cuadrícula y la "espiral" mostrada a la izquierda.

Esquema de como dibujar por el punto P una línea, r, paralela a la recta, s, utilizando la escuadra y el cartabón.

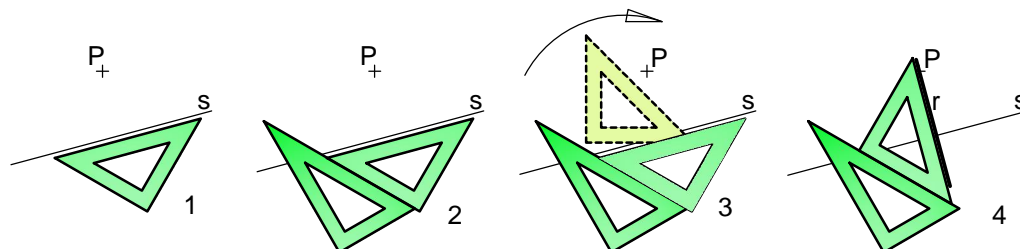


Dibujar cinco cuadrados inscritos sucesivamente en él ABCD, de tal manera que sus vértices sean los puntos medios de los lados del cuadrado circunscrito. Polígono circunscrito, aquel cuyos lados tocan los vértices del inscrito.



Dibujar desde los vértices A y C líneas perpendiculares a los segmentos BE, BF, BD, BG y BH, acabando en ellos.

Esquema de como dibujar por el punto P una línea, r, perpendicular a la recta, s, utilizando la escuadra y el cartabón.

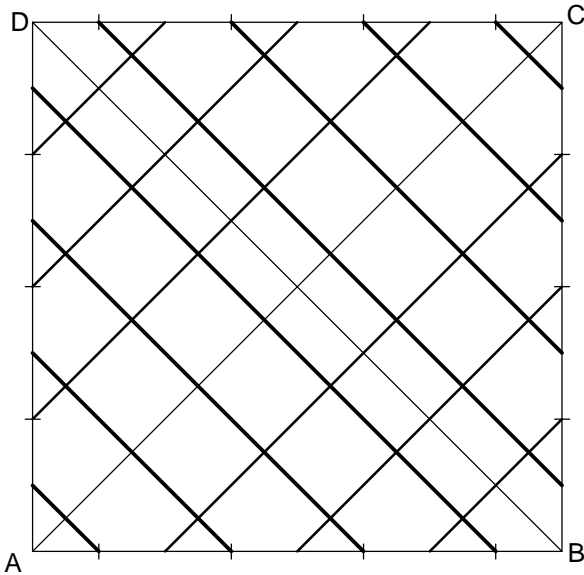


Preliminar 2.Utilización de la Escuadra y Cartabón.

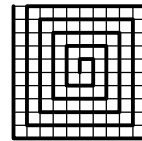
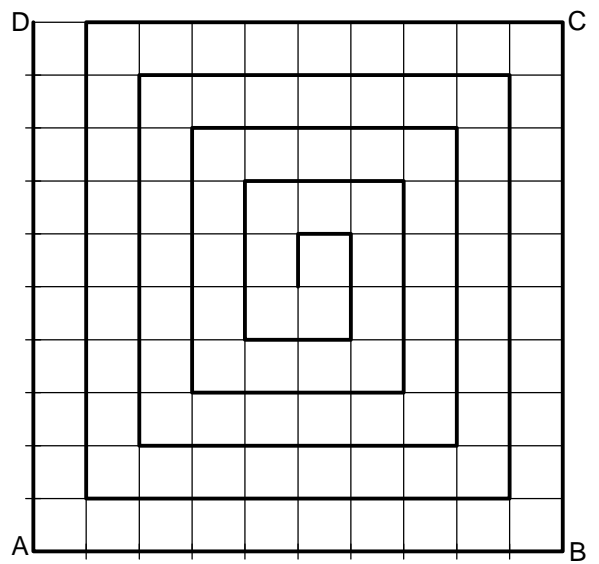
BT I - Pre 2

Nombre:

Nota:

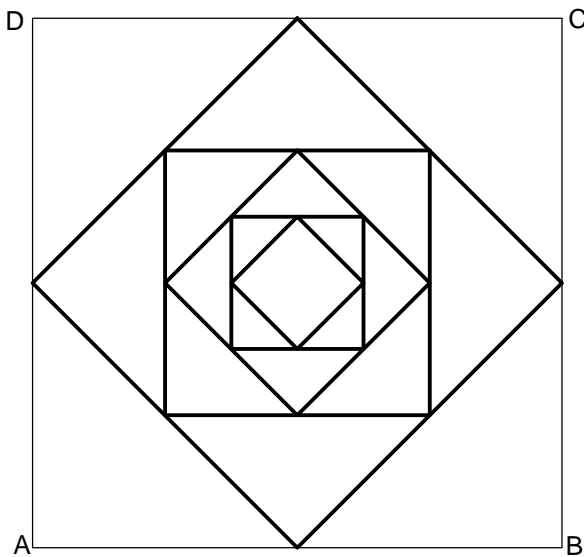
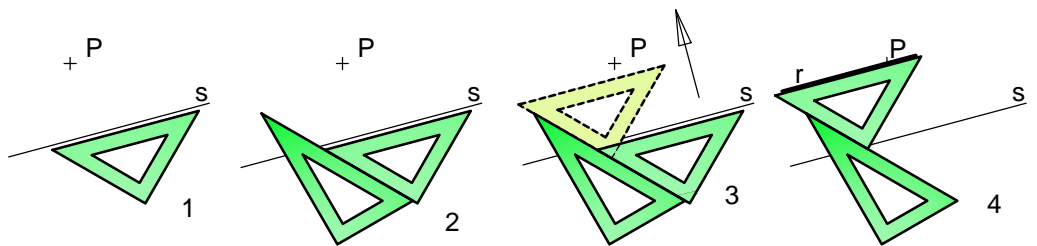


Dibujar: 1 - por las marcas de los lados AD y BC, líneas paralelas y de grosor intermedio, a la diagonal AC y 2 - por las marcas de los lados AB y CD, líneas paralelas y de grosor fuerte, a la diagonal BD.

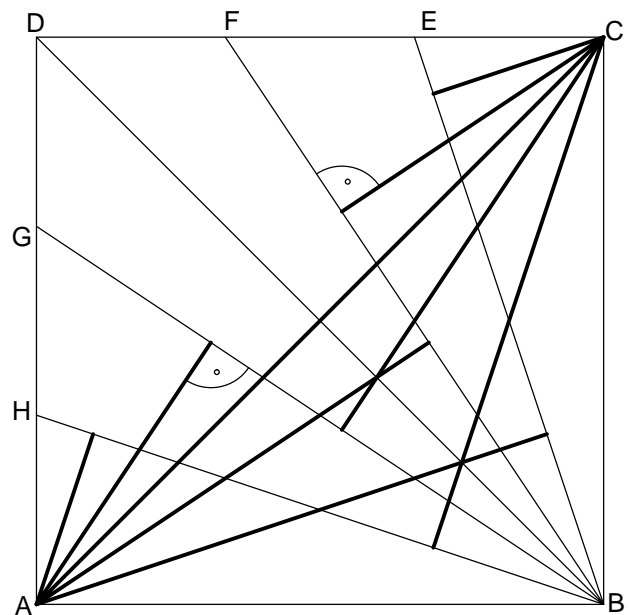


Dibujar en el cuadrado ABCD y aprovechando las marcas, la cuadrícula y la "espiral" mostrada a la izquierda.

Esquema de como dibujar por el punto P una línea, r, paralela a la recta, s, utilizando la escuadra y el cartabón.

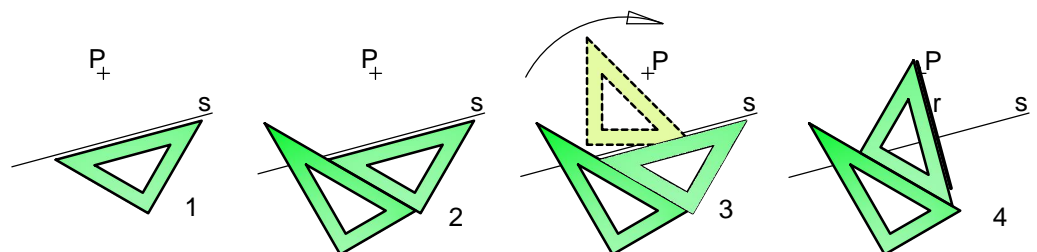


Dibujar cinco cuadrados inscritos sucesivamente en él ABCD, de tal manera que sus vértices sean los puntos medios de los lados del cuadrado circunscrito. Polígono circunscrito, aquel cuyos lados tocan los vértices del inscrito.



Dibujar desde los vértices A y C líneas perpendiculares a los segmentos BE, BF, BD, BG y BH, acabando en ellos.

Esquema de como dibujar por el punto P una línea, r, perpendicular a la recta, s, utilizando la escuadra y el cartabón.



2014-2015

Preliminar 2.Utilización de la Escuadra y Cartabón. Solución.

BT I - Pre 2

Nombre:

Nota:

