
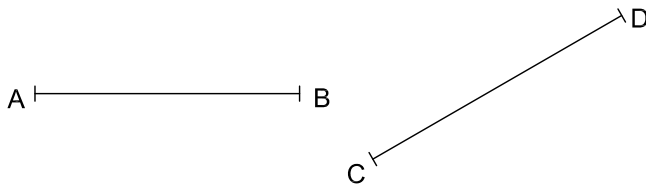


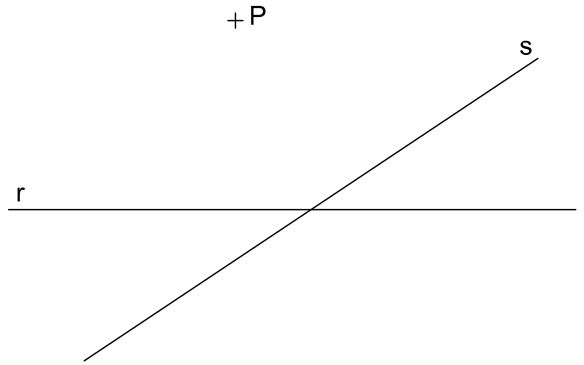
Realizar, gráficamente, sobre las líneas dadas y a partir de los puntos A, las operaciones con los segmentos dados, a, b y c. Dar las medidas en mm.



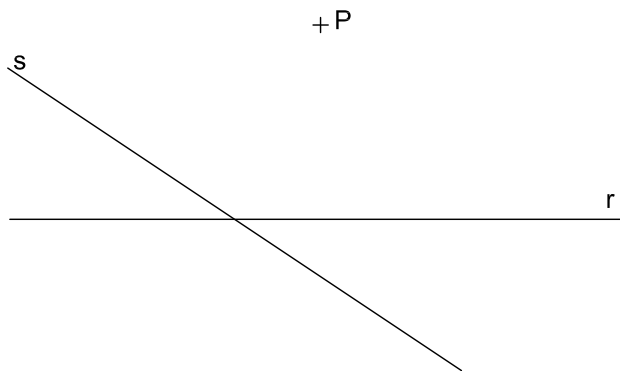
Dividir el segmento  $\overline{AB}$  en 7 partes iguales.



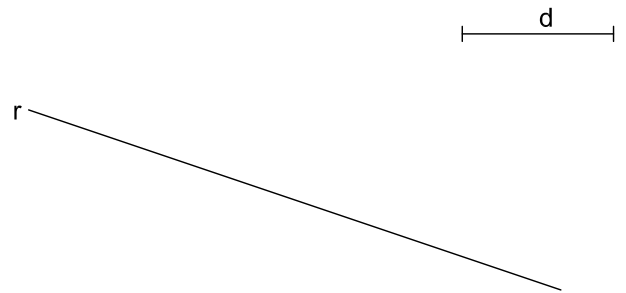
Dibujar las mediatrices de los segmentos  $\overline{AB}$  y  $\overline{CD}$ .



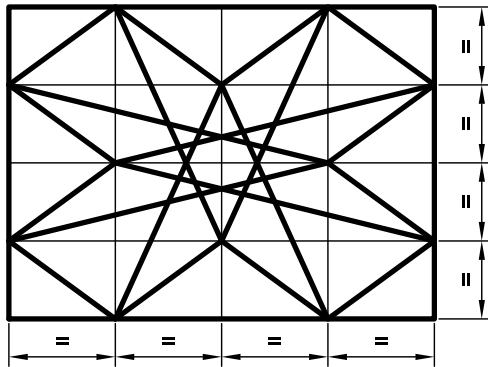
Dibujar las rectas perpendiculares a las r y s, por el punto P.




Dibujar las rectas paralelas a la r y s, por el punto, P.



Dibujar la recta, r', paralela a la, r, por encima y a la distancia, d.



En el rectángulo ABCD de la derecha, dibujar el esquema mostrado arriba. Si el profesor lo considera oportuno, puedes colorear el resultado



### Paralelismo y Perpendicularidad

BT I - 1.1

Nombre:

Nota: