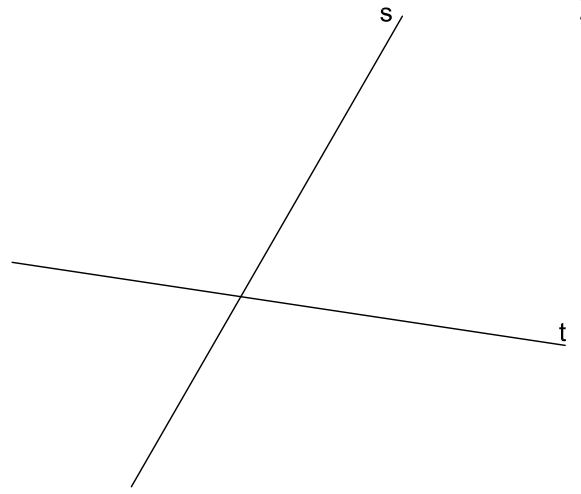



1

Dibujar las rectas tangentes a las dos circunferencias, según el esquema mostrado arriba a la izquierda.



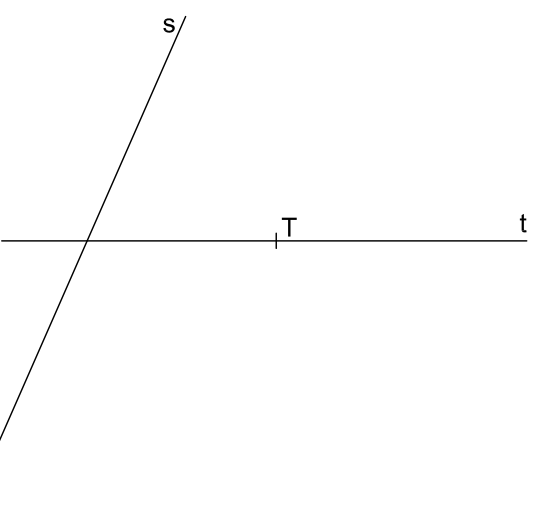
2

Dibujar las circunferencias, de radio 22 mm, tangentes a las dos rectas dadas.



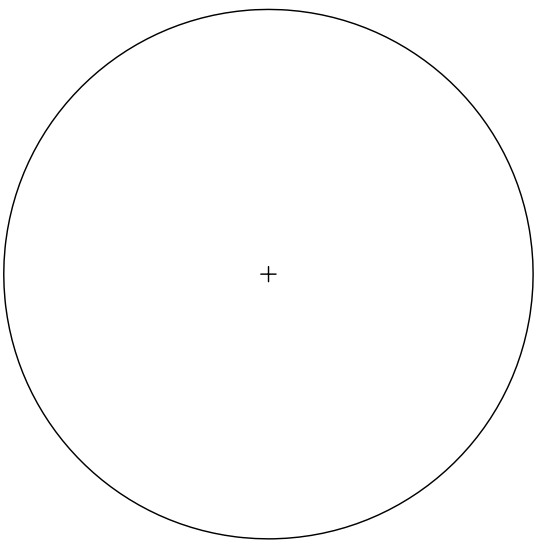
3

Dibujar la circunferencia tangente a la recta, t, en el punto, T, y que pasen por el punto, P.



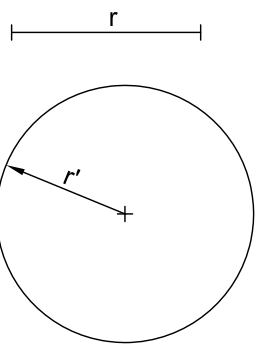
4

Dibujar las circunferencias tangentes a las rectas t y s, conociendo el punto de tangencia, T, en la recta, t.



5

Dibujar cuatro circunferencias tangentes entre si y a la circunferencia dada interiormente.



6

Dibujar las circunferencias, de radio r, tangentes a la circunferencia O, y que pasen por el punto exterior, P.

P

Tangencias 1

BT I-1.10

Nombre:

Nota:



2014-2015