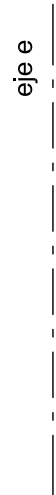
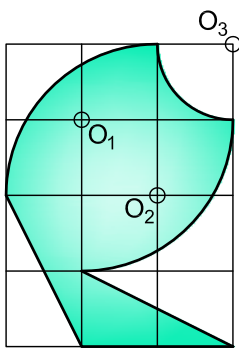


O+

Trasladar la figura dada, la distancia,  $l$ , y en el sentido,  $d$ .  
 Después aplicar al resultado una simetría central, de centro,  $O$ .  
 ¿Hay algún movimiento simple, que sea equivalente a los dos efectuados?

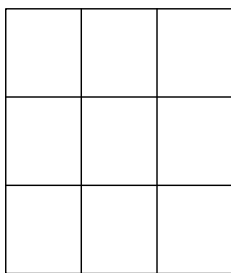
1



O+

Girar la figura dada un ángulo de  $-60^\circ$ , con respecto del centro,  $O$ .  
 Después aplicar al resultado una simetría axial, de eje,  $e$ .  
 ¿Hay algún movimiento simple, que sea equivalente a los dos efectuados?

2



Dibujar una composición geométrica dentro de la reticula. Dibujar con dicha retícula, mediante los movimientos del plano, una cenefa decorativa. Si tu profesor lo considera oportuno, puedes colorearlo.

3

2014-2015

### Movimientos en el plano

BT I - 1.4

Nombre:

Nota:

