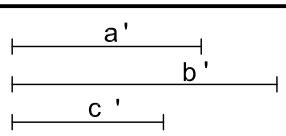
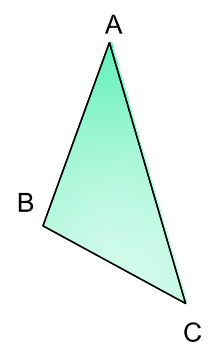


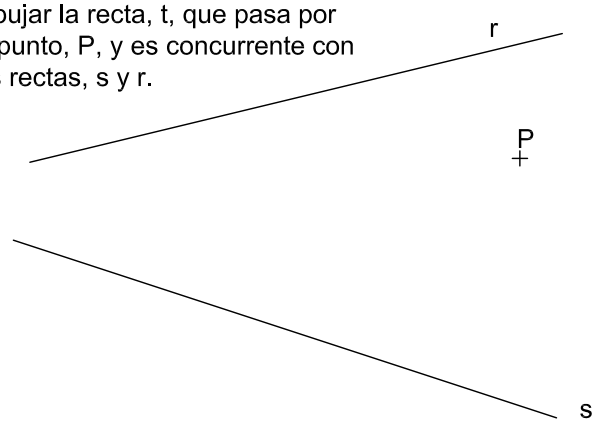
Dibujar la escala transversal de decimales 1:20. Tomar como unidad, 1 m. Medir sobre ella: 2.25, 2.17 y 1.93 m.

Dibujar los triángulos semejantes al ABC, de razón de semejanza:  $\frac{1}{2}$  y  $1\frac{1}{2}$ , es decir, la mitad y vez y media.

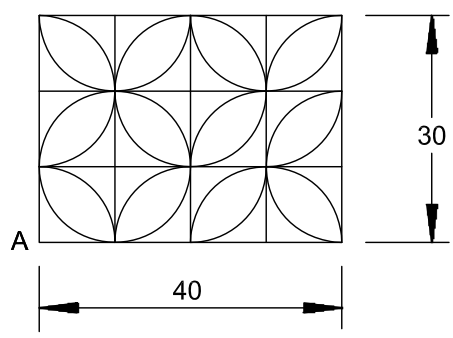
O  
+



3 Dibujar la recta, t, que pasa por el punto, P, y es concurrente con las rectas, s y r.



A B  
Dividir el segmento AB en partes proporcionales a los segmentos, a', b' y c'.



Dibujar a la escala, 2:1, la figura mostrada arriba, a partir del punto A, dado a la derecha. Si tu profesor lo considera oportuno puedes colorearlo.

Escalas. Proporcionalidad y semejanza.

BT I-1.5

Nombre:

Nota: