



**PRUEBA PARA LA OBTENCIÓN DEL TÍTULO DE GRADUADO EN EDUCACIÓN
SECUNDARIA OBLIGATORIA DESTINADA A PERSONAS MAYORES DE
DIECIOCHO AÑOS**

JUNIO 2011

DATOS DEL ASPIRANTE	CALIFICACIÓN
Apellidos: _____ Nombre: _____ DNI: _____ IES: _____	

ÁMBITO SOCIAL

1.- Realice el climograma siguiente:

3 puntos)

	E	F	M	A	M	J	JL	A	S	O	N	D
T	9	10	13	14	15	20	23	25	25	18	15	12
P	18	28	30	38	37	17	9	8	39	40	55	23

Temperaturas

Precipitaciones

	E	F	M	A	M	J	JL	A	S	O	N	D

Halla:

Amplitud térmica:

Precipitaciones anuales:

Temperatura media anual:

¿A qué clima pertenece?:



2. Conteste a las siguientes cuestiones, subrayando la respuesta correcta: (5 puntos)

1. *¿Cómo se llama el estrecho que separa los continentes de Asia y América?*
 - Estrecho de Magallanes
 - Estrecho de Gibraltar
 - Estrecho de Bering.

2. *¿Cuál es el río más largo del mundo?*
 - El río Amazonas
 - El río Danubio
 - El río Nilo

3. *¿Cuál es el punto más profundo del planeta Tierra?*
 - La fosa de Kuriles
 - La fosa de Las Marianas
 - El Mar Muerto

4. *¿Cuál es el océano más grande del mundo?*
 - Océano Atlántico
 - Océano Pacífico
 - Océano Índico

5. *¿Qué continentes están situados sólo en uno de los dos hemisferios?*
 - Europa y Antártida
 - África y América
 - Europa y Asia

6. *¿Cuál es la montaña más alta de la Región de Murcia?*
 - El Carche
 - El Morrón de Espuña
 - Pico Revolcadores

7. *¿Cuál es la cordillera más alta de la Tierra?*
 - Cordillera de los Andes
 - Los Alpes
 - Himalaya

8. *¿En qué continente se encuentra la península de Jutlandia?*
 - América
 - Europa
 - Asia

9. *¿Cómo se llama una llanura elevada por encima del nivel del mar?*
 - Meseta
 - Depresión
 - Planicie

10. *¿Qué poblaciones murcianas están bañadas por el río Segura?*
 - Cieza, Murcia, Archena
 - Blanca, Murcia, Jumilla
 - Caravaca, Bullas, Mula.



Región de Murcia

Consejería de Educación, Formación y Empleo

Dirección General de Formación Profesional
y Educación de Personas Adultas

3.-Sitúe en el mapa físico de España los siguientes accidentes geográficos: (2 puntos)

- Depresión del Ebro
- Sistema Ibérico.
- Estrecho de Gibraltar.
- Pirineos.
- Montes de Toledo.
- Cabo Finisterre.
- Río Guadalquivir.
- Pico del Teide.
- Picos de Europa
- Cabo de Palos





Región de Murcia

Consejería de Educación, Formación y Empleo

Dirección General de Formación Profesional
y Educación de Personas Adultas

4.- Sistema político español: describa brevemente su organización. (2 puntos)

5.- ¿Qué son los derechos humanos? Nombre algunos de los derechos fundamentales de los ciudadanos. ¿Existe una declaración expresa de los mismos? (2 puntos)



Región de Murcia

Consejería de Educación, Formación y Empleo

Dirección General de Formación Profesional
y Educación de Personas Adultas

6.- Coloca los siguientes instrumentos musicales en el siguiente cuadro: (1 punto)

Triángulo clarinete violonchelo trombón timbales
maracas . piano violín xilófono platillos.

PERCUSIÓN	CUERDA	VIENTO

7.- Defina brevemente los siguientes conceptos:

(2 puntos)

- **Inmigración:**

- **Emigración:**


- **Crecimiento vegetativo:**

- **Latitud:**




8.-Los elementos que intervienen en el proceso de la comunicación visual son: EMISOR, MENSAJE, MEDIO y RECEPTOR. Identifique en cada una de las siguientes manifestaciones visuales el proceso: (2 puntos)

EDICIÓN IMPRESA: Portada de un comic

	EMISOR	MENSAJE
	MEDIO	RECEPTOR

OBRA PICTÓRICA: Las meninas

	EMISOR	MENSAJE
	MEDIO	RECEPTOR



Región de Murcia

Consejería de Educación, Formación y Empleo

Dirección General de Formación Profesional
y Educación de Personas Adultas

9.-Subraye la respuesta correcta para cada opción:

(2 puntos)

- 1.- *La invasión musulmana de la Península ibérica tuvo lugar en el año:*
218 a.C. 711 100
- 2.- *La Reconquista se inició por:*
Batalla Navas de Tolosa Rebelión de D. Pelayo Batalla de Trafalgar
- 3.- *¿Qué se entiende por totalitarismo?:*
Un estilo arquitectónico Una religión Un tipo de organización política
- 4.- *España pierde Cuba, Filipinas y Puerto Rico en el año:*
1492 1898 1808
- 5.- *La aparición de la metalurgia se produjo en*
Edad Media Neolítico Edad Antigua
- 6.- *¿El dios más importante del panteón romano era?:*
Marte Júpiter Neptuno
- 7.- *¿Cuál de estos pueblos no formaba parte de los “bárbaros” que acabaron con el Imperio Romano?:*
Visigodos Dorios Francos
- 8.- *Las organizaciones de artesanos medievales que producían y vendían los productos en las ciudades ¿Se llamaban?:*
Gremios Cañadas Corregidores
- 9.- *¿Quién conquista el reino de Murcia en el siglo XIII?:*
Alfonso I El Batallador Alfonso X El Sabio Pedro I El Cruel
- 10.- *El Renacimiento es un movimiento cultural que surge en Italia:*
En el s. XIII En el s. XVII En el s. XV

10.-Ordene cronológicamente los siguientes acontecimientos de la historia contemporánea de España, haciendo coincidir el más lejano en el tiempo con el número 1:

(2 puntos)

Núm:	II República española
Núm:	Dictadura de Primo de Rivera
Núm:	Gobierno de Felipe González
Núm:	Guerra Civil española
Núm:	Asesinato de Carrero Blanco por la banda terrorista ETA
Núm:	Aprobación de la Constitución
Núm:	Régimen del General Franco
Núm:	Gobierno de Adolfo Suárez
Núm:	Incorporación de España a la Unión Europea
Núm:	Gobierno de Jose María Aznar



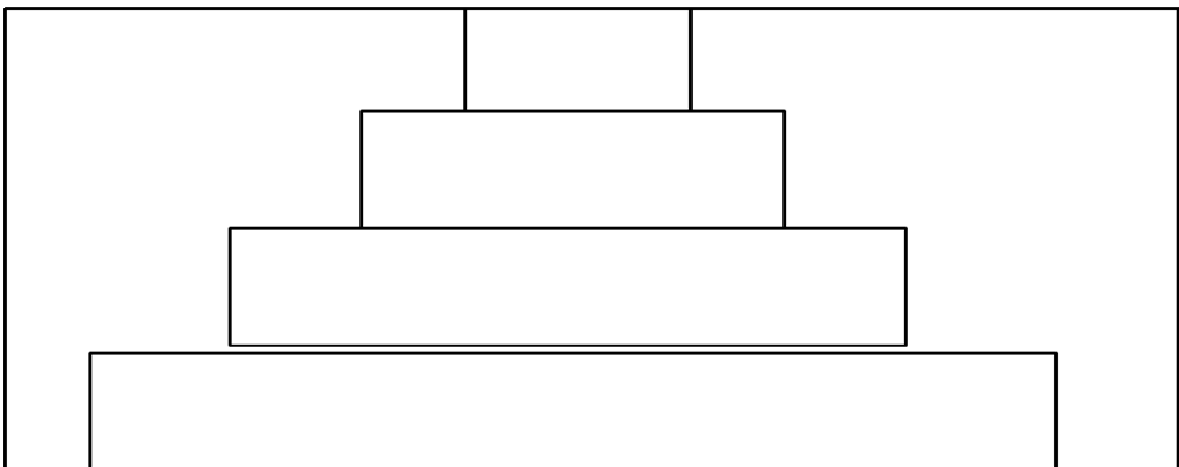
11.- Relacione las siguientes obras pictóricas con sus artistas: . (1 puntos)

Las Meninas
Capilla Sixtina
La Gioconda
El entierro del Conde de Orgaz
Las tres gracias

Miguel Ángel
Velazquez
Rubens
Leonardo da Vinci
El Greco

12.-Explique brevemente el concepto de FEUDALISMO, en qué época histórica se desarrolló plenamente y cómo se organizaba la sociedad feudal; complete la pirámide social adjunta.

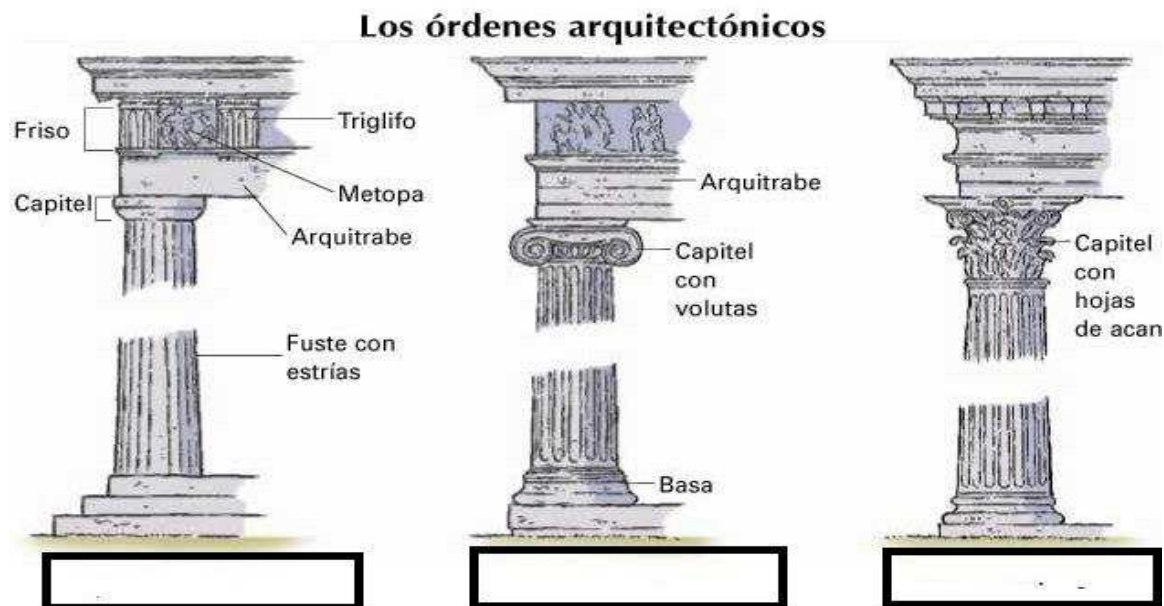
(3 puntos)





13.-. Identifique el nombre de los órdenes griegos:

(1,5 puntos)



14.-. Complete, en relación a las Comunidades Autónomas del Estado Español.

(1,5 puntos)

Comunidades Autónomas uniprovinciales	Comunidades Autónomas con 5 o más provincias	Comunidades Autónomas interiores (sin litoral marítimo)