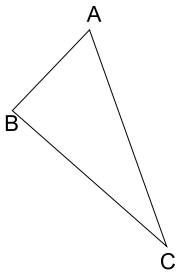
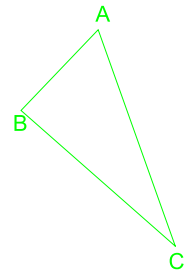


Dibujar un triángulo semejante al ABC y de perímetro 180 mm.



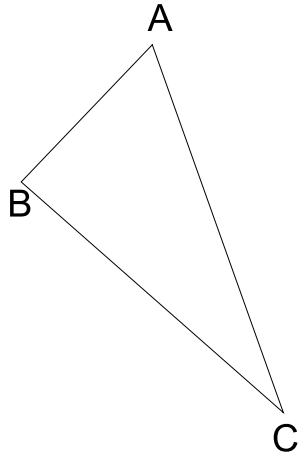
O₊

Dibujar un triángulo semejante al ABC y de perímetro 180 mm.



O₊

Dibujar un triángulo semejante al ABC y de perímetro 180 mm.



O₊

de perímetro 180 mm.

C
