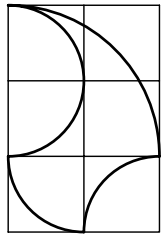
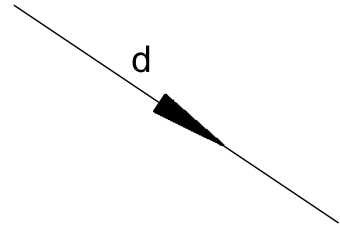
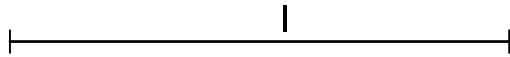


PROBLEMA 11 - Dada la figura adjunta, aplicarle un giro de -60° , respecto del centro O y después una traslación de dirección d y longitud l. Indicar que movimiento simple es equivalente a los dos anteriores.



O⁺

PROBLEMA 12 - Dada la losa adjunta, embaldosar con ella un espacio de las dimensiones indicadas.

