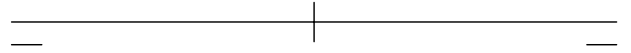
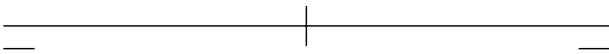


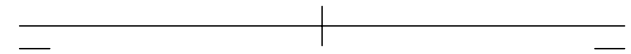
1 - Representa un plano oblicuo cualquiera y los distintos tipos de rectas que puede contener.



2 - Representa un plano proyectante horizontal, también llamado vertical, cualquiera y los distintos tipos de rectas que puede contener.

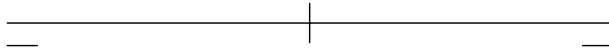


3 - Representa un plano proyectante vertical, también llamado "de canto", cualquiera y los distintos tipos de rectas que puede contener.



4 - Representa un plano paralelo a la LT cualquiera y los distintos tipos de rectas que puede contener.

LÁMINA 3 . DIÉDRICO. PLANOS 1



1 - Representa un plano que contiene a la LT cualquiera y los distintos tipos de rectas que puede contener.



2 - Representa un plano horizontal, cualquiera y los distintos tipos de rectas que puede contener.



3 - Representa un plano frontal, cualquiera y los distintos tipos de rectas que puede contener.



4 - Representa un plano de perfil cualquiera y los distintos tipos de rectas que puede contener.

LÁMINA4 . DIÉDRICO. PLANOS 2