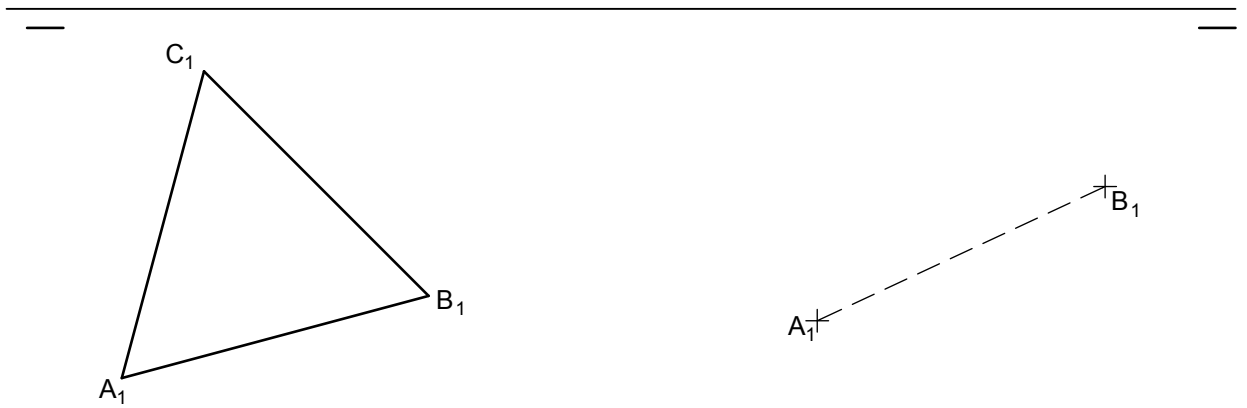


Dibujar los tetraedros, de igual arista, en las cuatro posiciones siguientes:

1. Apoyado por la cara ABC en el PH (la posición de la izquierda).
2. Con una arista, la AB en el PH y la opuesta horizontal.
3. Con un vértice él D en el PH y la altura del tetraedro vertical; se da la posición de la proyección horizontal de la recta donde está la arista DA.
4. Con una arista, la AB vertical. La proyección horizontal de la arista CD está a la izquierda de la arista AB y es paralela a la línea, s.

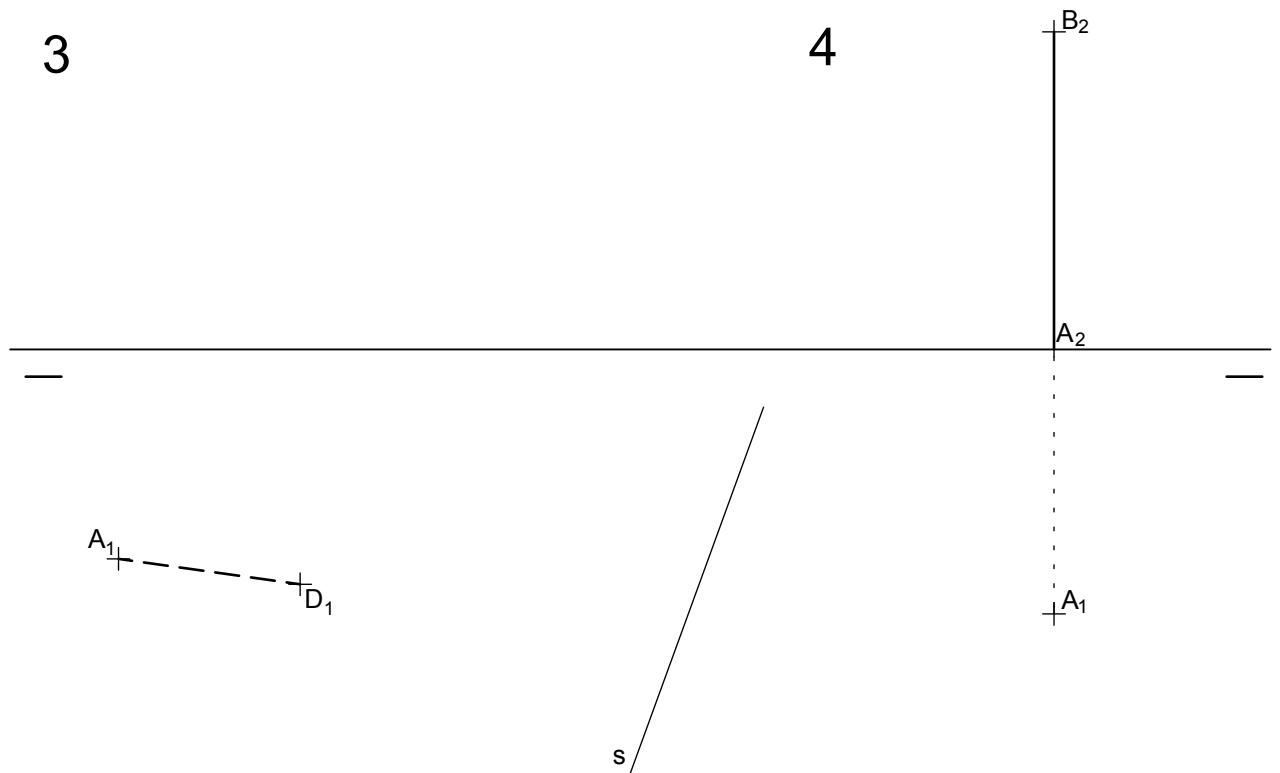
1

2



3

4

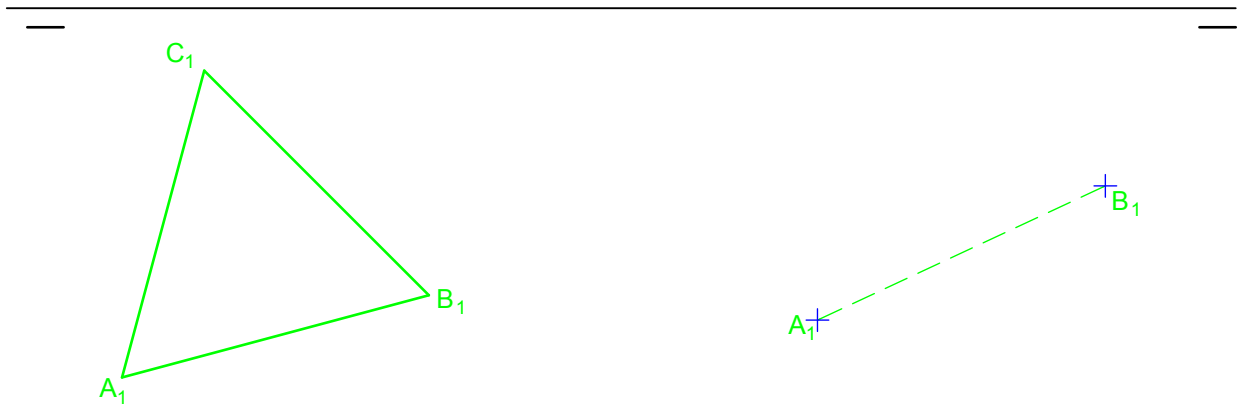


Dibujar los tetraedros, de igual arista, en las cuatro posiciones siguientes:

1. Apoyado por la cara ABC en el PH (la posición de la izquierda).
2. Con una arista, la AB en el PH y la opuesta horizontal.
3. Con un vértice él D en el PH y la altura del tetraedro vertical; se da la posición de la proyección horizontal de la recta donde está la arista DA.
4. Con una arista, la AB vertical. La proyección horizontal de la arista CD está a la izquierda de la arista AB y es paralela a la línea, s.

1

2



3

4

