

1

Dibujar las rectas tangentes a las circunferencias dadas.
De las posibles soluciones, dibujar aquellas que responden al esquema mostrado en la parte superior izquierda.

2

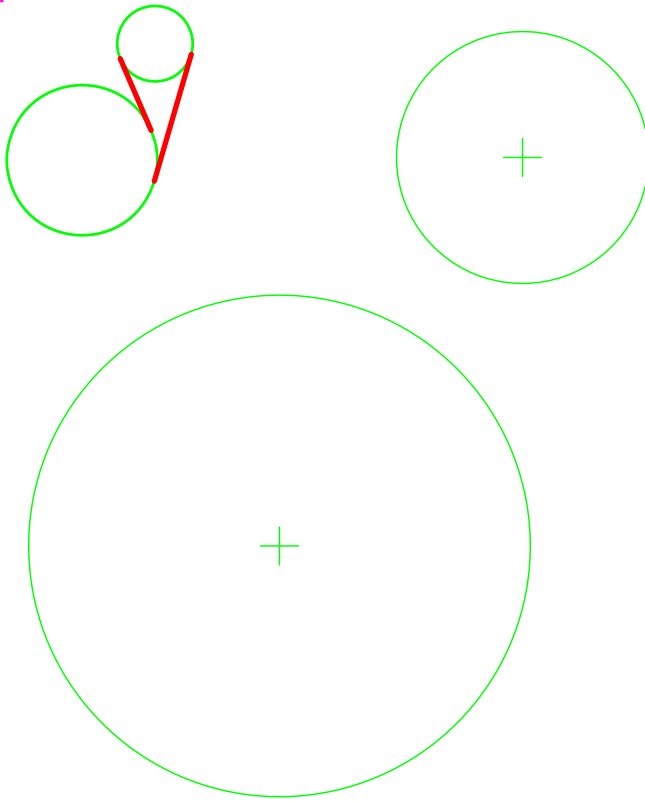
Dibujar la circunferencia tangente interior a las rectas dadas.

3

4

Dibujar las circunferencias de radio, r , que son tangentes a las circunferencias dadas y.
De las posibles soluciones, dibujar aquellas que responden al esquema mostrado a la derecha.


1



Dibujar las rectas tangentes a las circunferencias dadas.

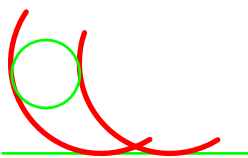


De las posibles soluciones, dibujar aquellas que responden al esquema mostrado en la parte superior izquierda.

2



Dibujar la circunferencia tangente interior a las rectas dadas.



3



Dibujar las circunferencias de radio, r , que son tangentes a la circunferencia dada y a la recta, t .

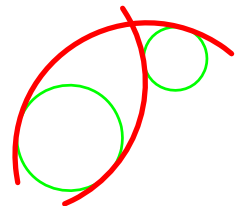
De las posibles soluciones, dibujar aquellas que responden al esquema mostrado a la izquierda.

4



Dibujar las circunferencias de radio, r , que son tangentes a las circunferencias dadas y.

De las posibles soluciones, dibujar aquellas que responden al esquema mostrado a la derecha.



AG

Tangencias 1

©BFRSG

1.14 BT II

NOTA: